

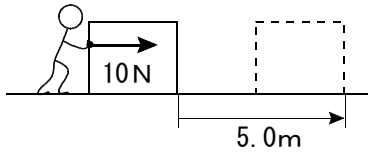
地獄の練習問題

仕事

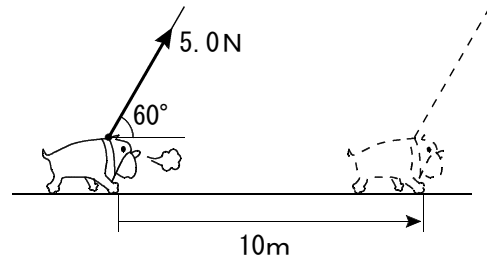
$$W = Fx$$

次の図の、それぞれの仕事を求めよ。

(1) 人のした仕事

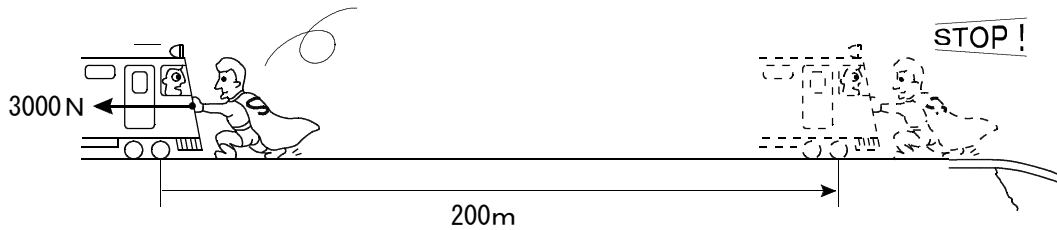


(2) 斜めに引いた仕事

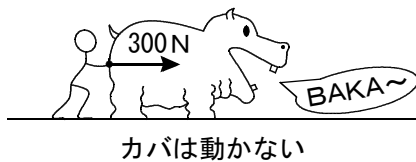


(3) “力は機関車よりも強く” のスーパーマンのした仕事

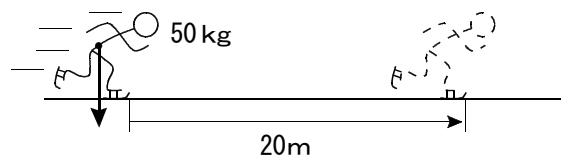
(右でレールが途切れているので、左から来た機関車をスーパーマンが止めた)



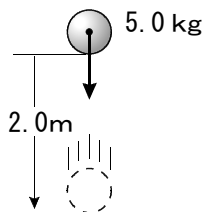
(4) 人のした仕事



(5) 重力のした仕事



(6) 重力のした仕事



(7) 重力のした仕事と垂直抗力のした仕事

