

# 地獄の練習問題

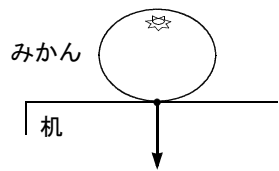
## さまざまな力

【1】 次のうち、理科でいう「力」に○を、そうでないものに×を記入せよ。

重力	万有引力	磁力	圧力	摩擦力	ばねの力	握力	視力	聴力	魅力	集中力	統率力	権力	団結力

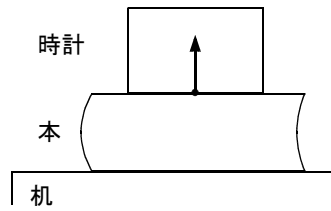
【2】 次の力の矢印は、何が何から受ける力かを答えよ。( ) の中に、「押されている」のか「引かれている」のかも記入せよ。

(1)



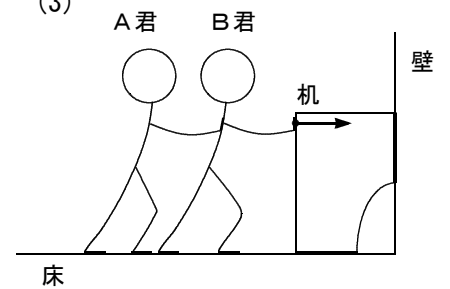
\_\_\_\_\_ が \_\_\_\_\_ から  
( \_\_\_\_\_ れている)

(2)



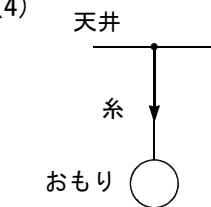
\_\_\_\_\_ が \_\_\_\_\_ から  
( \_\_\_\_\_ れている)

(3)



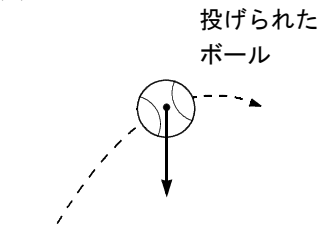
\_\_\_\_\_ が \_\_\_\_\_ から  
( \_\_\_\_\_ れている)

(4)



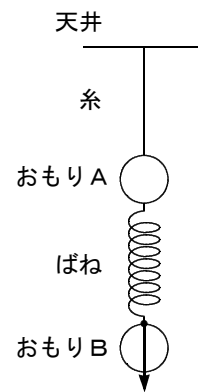
\_\_\_\_\_ が \_\_\_\_\_ から  
( \_\_\_\_\_ れている)

(5)



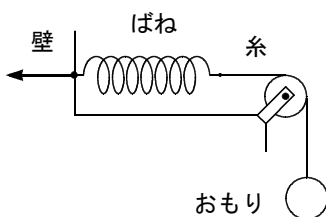
\_\_\_\_\_ が \_\_\_\_\_ から  
( \_\_\_\_\_ れている)

(6)



\_\_\_\_\_ が \_\_\_\_\_ から  
( \_\_\_\_\_ れている)

(7)



\_\_\_\_\_ が \_\_\_\_\_ から  
( \_\_\_\_\_ れている)

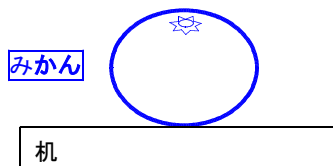
<裏面に続く>

<裏面>

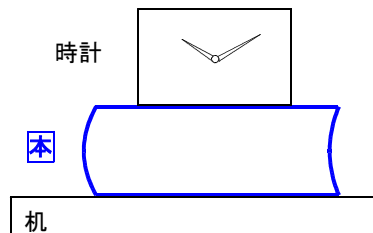
【3】 次の図の指定されている物体が受ける力をすべて描け。さらに、描いた力の矢印が、それぞれ何から受ける力かを書け。

○力の矢印の描き方  
1 重力を描く  
2 考えている物体に接触している他の物体から受ける力を描く

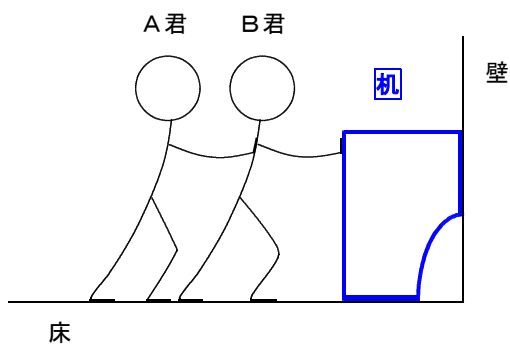
(1)



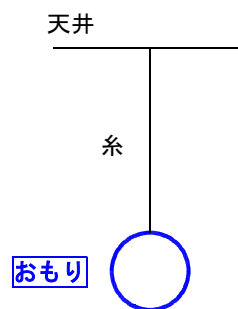
(2)



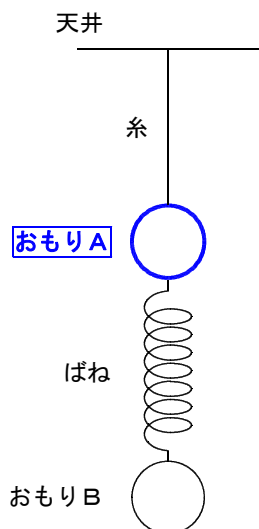
(3)



(4)



(5)



(6) 質量の無視できるばねとする

